



مؤسسة قودافون
مصر
لتنمية المجتمع

تعليمي



أسئلة امتحانات السنوات السابقة [٢٠٢٢ و ٢٠٢٣] وأفكار لأسئلة جديدة

١- من خلال دراستك لمفهوم الجغرافيا السياسية اسـتنتج:
الهدف النهائي من دراسـة المقومات الطبيعية والبشرية للولايات المتحدة الأمريكية التعرف على

- أ- نشاطها الاقتصادي.
ب- تنظيمها الداخلي.
ج- نشاطها البشري.
د- قوتها السياسية.

٢- (أرسطو، ابن خلدون ، راتزل ، كيلين) كانت لهم إسهامات في علم الجغرافيا السياسية ، وقد اتفقوا جميعاً في

- أ- دراسة الوحدات السياسية .
ب- دراسة النظام العالمي الجديد.
ج- تشبيه الدولة بالكائن الحي.
د- الدراسة الاستاتيكية للوحدات السياسية.

٣- شهد العقد الثالث من الألفية الثالثة إحياء الفكر الديناميكي على يد دولة ...
أ- روسيا .
ب- فرنسا .
ج- اليابان .
د- استراليا .

٤- عندما عرضت فكرة حفر قناة السويس على (محمد علي) - رفضها قائلاً :
" لا أريد بسفوراً جديداً في مصر " ، في ضوء هذه العبارة :

- رفض (محمد علي) لمشروع قناة السويس يعبر عن
- أ- التحليل السياسي للقوة.
ب- النظام العالمي الجديد.
ج- دراسة الوحدات السياسية.
د- دراسة الأمن المالي.

٥- الدور الإيجابي لعلماء الجغرافيا السياسية في رسم الحدود السياسية

بعد الحرب العالمية الأولى بين دولتي

- أ- مالي والسنغال.
ب- رومانيا وألمانيا.
ج- النيجر و نيجيريا.
د- المجر والنمسا.

٦- أحد المتغيرات التي أدت إلى إعلان النظام العالمي الجديد هو نهضة بعض

المناطق اقتصاديا والتي تقع في

- أ- جنوب شرق استراليا.
ب- جنوب شرق آسيا.
ج- جنوب شرق أمريكا الشمالية.
د- جنوب شرق إفريقيا.

٧- دولة اســــتطاعت أن تحقق التواصل الحضاري مع دول العالم قديما تبعد

عاصمتها عن حدها الشمالي ٣٥٦ كم وحدها الجنوبي ٢٥٠ كم ، وحدها الشرقي

١٠١ كم، وتبعد عن الحد السياسي البحري للدولة بمسافة ١٢ ميلا بحريا في ضوء

هذه العبارة اســــتنتج : تفتقد عاصمة هذه الدولة

- أ- سهولة الوصول.
ب- الاتصال بالعالم الخارجي.
ج- الحماية والدفاع.
د- مركز السلطة والقوة.

٨- يميز الأمة عن الدولة

- أ- العامل الجغرافي.
ب- العامل السياسي.
ج- العامل الزمني.
د- العامل البشري.

٩- مجلس الأمن التابع للأمم المتحدة له سلطة قانونية على الدول الأعضاء ، في

ضوء هذه العبارة استنتج : يمثل مجلس الأمن

- أ- سلطة مركزية في اتحاد فيدرالي.
ب- سلطة محلية في اتحاد فيدرالي.
ج- سلطة مركزية في اتحاد كونفدرالي.
د- سلطة محلية في اتحاد كونفدرالي.

١٠- هناك متغيرات أدت إلى إعلان النظام العالمي الجديد ، في ضوء العبارة السابقة استنتج :

القوتان العظمتان اللتان ظهر لهما دور مؤثر في النظام الاقتصادي العالمي والأسواق العالمية تتشابهان في

أ- المظهر التضاريسي لكل منهما.

ب- شكل الدولة السائد فيهما.

ج- عدد الدول المجاورة لهما.

د- التواصل الحضاري بالعالم الخارجي.

١١- تنبأ الدكتور جمال حمدان في بعض مؤلفاته بانتهاء بعض الدول - تدل

العبارة السابقة على تأثيره بأفكار العالم

أ- كيلين. ب- سيجفريد. ج- ابن خلدون. د- أرسطو.

١٢- لعبت الجغرافيا السياسية دوراً إيجابياً في حل بعض المشكلات السياسية

في قارة

أ- استراليا. ب- أفريقيا.

ج- أمريكا الشمالية. د- أمريكا الجنوبية.

١٣- من خلال تحليلك لمفهوم الجغرافيا السياسية استنتج :

دراسة المحافظات المصرية تعبر عن

أ- العلاقات الدولية. ب- التنظيم الداخلي.

ج- المقومات الطبيعية. د- المشكلات السياسية.

١٤- تسعى جامعة الدول العربية لتحقيق التكامل الاقتصادي بين الدول الأعضاء

، تشير العبارة السابقة إلى أحد أهداف الجغرافيا السياسية وهو

أ- تحليل التجمعات الدولية. ب- تحليل التجمعات الإقليمية.

ج- التحليل السياسي للقوة. د- التعرف على المشكلات السياسية.

١٥- قرار الحكومة المصرية بإنشاء مصنع الألومنيوم في نجع حمادي اعتمد على ..

أ- الاستشعار من بعد . ب- تكنولوجيا المعلومات .

ج- وسائل الاتصالات . د- نظم المعلومات الجغرافية .

١٦- مدينة باريس عاصمة فرنسا تتمتع بالحماية والدفاع وهو ما يخالف عاصمة دولة

أ- نيجيريا. ب- موريتانيا. ج- تركيا. د- إسبانيا.

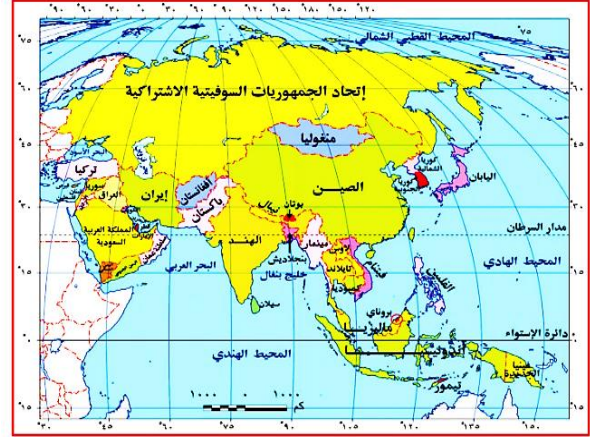
١٧- من خلال الخريطين استنتج : الدولة التي لم تتأثر حدودها بعد انهيار

الاتحاد السوفيتي

أ- إيران . ب- أفغانستان . ج- تركيا . د- منغوليا .



آسيا
السياسية
الآن



آسيا
قبل
تفكك
الاتحاد
السوفيتي
ديسمبر
١٩٩١

١٨- أي المناطق التالية تتمتع بنوع من الاستقلال الذاتي

أ- شنغهاي بالصين. ب- كوينزلاند بأستراليا. ج- كيوتو باليابان. د- كورسيكا بفرنسا.

١٩- تم اختراق الأمن الثقافي العربي من خلال إحلال قيم العولمة السلبية ، في ضوء ما سبق استنتج : تتفق وتتطابق هذه العبارة مع أحد خصائص النظام العالمي الجديد وهي

أ- تدويل المشاكل والقضايا التي يواجهها العالم.
ب- تقلص دور السيادة الوطنية.
ج- بروز ظاهرة الاعتماد الدولي المتبادل.
د- تحرير التجارة العالمية .

٢٠- تزامنت التحولات الكبرى التي شهدتها منطقة البحر الأدرياتي في نهاية القرن ال ٢٠ مع

أ- نشأة حلف وارسو. ب- ازدهار دور حركة عدم الانحياز. ج- ظهور حلف الناتو. د- إعلان النظام العالمي الجديد.

٢١- تفكك الاتحاد السوفيتي وجناحيه الاقتصادي والعسكري يؤكد صحة آراء

العالم

(أ) كيلين (ب) أرسطو. (ج) سيجفريد. (د) ابن خلدون.

٢٢- (تعدد مناطق قلب الدولة أو نواة الدولة على خريطة العالم) في ضوء

العبارة استنتج :



الدولة التي يجاورها أقل عدد من الدول تتمتع بوجود قلب ذات أهمية

(أ) اقتصادية. (ب) سياسية. (ج) دينية. (د) سكانية.

٢٣- الاحتباس الحراري أصبح حالياً مجال اهتمام قادة العالم المتقدم

والنامي على حد سواء) - هذه العبارة توضح إحدى خصائص النظام

العالمي الجديد وهي

أ- ظهور التكتلات الاقتصادية الكبرى.

ب- تحرير التجارة العالمية .

ج- تقلص دور السيادة الوطنية لدى بعض الدول .

د- تدويل المشاكل والقضايا التي يواجهها العالم .

٢٤- شاهد العالم في بث مباشر وقائع احتفالية مصر بنقل المومياوات

من خلال

ب- الاستشعار من بعد .

أ- وسائل الاتصالات السلكية واللاسلكية .

د- نظام تحديد المواقع العالمية.

ج- نظم المعلومات الجغرافية.

٢٥- العبارة التي تشير إلى مفهوم الأمة

- أ- قيام مجموعة بشرية بعمل انتخابات تشريعية.
- ب- تميز مجموعة بشرية بتراث شعبي شديد الخصوصية.
- ج- اتخاذ قرار بعقد معاهدة سياسية.
- د- اتخاذ قرار بالانضمام لحلف عسكري.

٢٦- كان لانتهاء الحرب الباردة وامتلاك الغرب السلاح والتكنولوجيا

أثر سلبي على منطقة

- أ- غرب إفريقيا .
- ب- شرق أوروبا .
- ج- شرق استراليا .
- د- غرب أمريكا الشمالية.

٢٧- يظهر دور الجغرافيا التطبيقي لنشر السلام والأمن الدوليين من خلال

- أ- تحديد عناصر قوة وضعف الوحدات السياسية .
- ب- دراسة الوحدات السياسية جغرافياً .
- ج- اقتراح حلول مناسبة للمشكلات السياسية .
- د- تحليل التجمعات الإقليمية تحليلاً جغرافياً.

٢٨- قام أحد الباحثين بدراسة المقومات الجغرافية لدولة (جيبوتي) وتوصل

على أنها اكتسبت علاقات دولية تنبع من موقعها الاستراتيجي ، في

ضوء تلك العبارة وضع :

ساعد في إبراز أهمية هذه الدراسة علم

- أ- السياسة .
- ب- الجيوبولتيك .
- ج- الاقتصاد .
- د- الجغرافيا السياسية .

٢٩- قوتان عظيمتان لعبتا دوراً فعالاً في الإسراع بإعلان النظام العالمي

الجديد يتشابهان في

- أ- المظهر التضاريسي لكل منهما .
- ب- اشتراكهما في أحلاف عسكرية .
- ج- معدل الإنفاق على البحث العلمي .
- د- تأثرهما بالصدمات الخارجية .

٣٠- سؤال مقالي : في ضوء دراستك لمجالات الجغرافيا السياسية حدد

مصداقية العبارة التالية . (ارتبط بالنظام العالمي الجديد ظهور

اتحادات كونفيدرالية اقتصادية تضم جميع دول أمريكا الشمالية) .

.....
.....

٣١- اكتسبت سنغافورة مكانة دولية بفضل موقعها الجغرافي العبارة

السابقة تؤكد صحة آراء

أ- ابن خلدون . ب- راتزل . ج- سيجفريد . د- أرسطو .

٣٢- تقييم أداء الخدمات المختلفة (تعليم - صحة) وفقاً لمعلومات رقمية يتم

من خلال

أ- وسائل الاتصال . ب- الاستشعار من بعد .

ج- نظم المعلومات الجغرافية . د- تكنولوجيا المعلومات .

٣٣- (أبوجا عاصمة نيجيريا ، طوكيو عاصمة اليابان) تتشابهان في كونهما ...

أ- عواصم تاريخية . ب- تتمتعان بالحماية والدفاع .

ج- عواصم مستحدثة . د- تفتقدان للحماية والدفاع .

٣٤- تهتم الجغرافيا السياسية بالعديد من المجالات بعضها فرضته الظروف

العالمية ، ولم يكن ثمرة اتفاق بين الدول ، في ضوء هذه العبارة استنتج :

أ- المنظمات الدولية . ب- النظام العالمي الجديد .

ج- العلاقات الدولية . د- المنظمات الإقليمية .

٣٥- الدولة التي تحولت من اتحاد كونفيدرالي إلى اتحاد فيدرالي

أ- فرنسا . ب- مصر . ج- اليابان . د- سويسرا .

٣٦- ساهمت الجغرافيا السياسية في حل بعض المشكلات السياسية

، وهو ما ظهر على خريطة العالم في الربع

أ- الجنوب الشرقي . ب- الشمالي الغربي .

ج- الشمالي الشرقي . د- الجنوبي الغربي .

٣٧- معظم المتغيرات التي ساعدت على إعلان النظام العالمي الجديد ارتبطت

بقارتي

أ- آسيا وإفريقيا . ب- استراليا وأمريكا الجنوبية .

ج- أمريكا الشمالية وإفريقيا . د- أوروبا وآسيا .

٣٨- ارتبط ظهور الأقليات في العالم بنشأة

أ- المنظمات الإقليمية . ب- الوحدات السياسية .

ج- النظام العالمي الجديد . د- المنظمات الدولية .

٣٩- الدول الأكثر تضرراً بظهور الشركات متعددة الجنسيات تقع معظمها في قارة

أ- استراليا. ب- أمريكا الشمالية. ج- أوروبا. د- إفريقيا.

٤٠- هناك عواصم تلخص حياة الدول عبر العصور ، منها

أ- نيويورك ومدريد. ب- لندن و طوكيو.
ج- روما وأبوجا. د- القاهرة وباريس.

٤١- أحد المفاهيم التي تعبر عن الوجه الآخر للنظام العالمي الجديد

أ- العولمة . ب- التحليل السياسي للقوة.
ج- الوحدات السياسية. د- العلاقات الدولية.

٤٢- تزامن اتحاد الألمانيتين مع زيادة الأقليات

أ- اللغوية . ب- العرقية. ج- الدينية. د- القومية.

٤٣- تصنف الجغرافيا إلى طبيعية وبشرية ، في ضوء العبارة استنتج العبارة التي تتشابه مع الجغرافيا السياسية من حيث تصنيفها

أ- المناطق الاستوائية تتميز بغزارة الأمطار.
ب- امتداد جبال أطلس في بلاد المغرب العربي.
ج- اتجاه مصر للتوسع في مشروعات البنية التحتية.
د- الأرصفة القارية غنية بالثروات الطبيعية.

٤٤- سؤال مقالي : دلل لأهداف الجغرافيا السياسية جوانب عملية تطبيقية .

.....
.....

٤٥- مجلس الأمن التابع للأمم المتحدة له سلطة قانونية على الدول الأعضاء ،

في ضوء هذه العبارة استنتج : يمثل مجلس الأمن

أ- سلطة مركزية في اتحاد فيدرالي.
ب- سلطة محلية في اتحاد فيدرالي.
ج- سلطة مركزية في اتحاد كونفدرالي.
د- سلطة محلية في اتحاد كونفدرالي.

٤٦- يتمثل النظام السياسي في صورته الاجتماعية في

أ- المؤسسات التعليمية. ب- النظام البرلماني.
ج- المؤسسات القضائية. د- العلاقات الخارجية.

٤٧- يفصل بحر المانش بين دولتين

- أ- تختلفان في موقع العاصمة.
- ب- تختلفان في صلاحيات رئيس الوزراء.
- ج- تتشابهان في شكل الدولة.
- د- تتشابهان في أنظمة الحكم من حيث الشكل.

٤٨- أمامك صورة للزي الوطني لدولة اليابان والتي تعبر عن



- أ- وحدة العادات والتقاليد .
- ب- تنوع العادات والتقاليد.
- ج- تعدد اللغات.
- د- تنوع السلطات بها.

٤٩- شكل من أشكال النظام السياسي في صورته المؤسسية يتمثل في

- أ- إنشاء المدارس التكنولوجية.
- ب- إنشاء المستشفيات الحديثة.
- ج- إنشاء الطرق البرية الحديثة.
- د- إقرار القوانين وتنفيذها.

٥٠- الحرية السياسية والحرية الفكرية جناحان يقودان المجتمع للتقدم ،

يتمثل ذلك في أي من المراحل الانتخابية

- أ- الترشح للانتخابات.
- ب- فرز الأصوات.
- ج- تقسيم الدوائر.
- د- تحديد الفائزين.

٥١- العبارة التي تشير إلى مفهوم الأمة

- أ- قيام مجموعة بشرية بعمل انتخابات تشريعية.
- ب- تميز مجموعة بشرية بتراث شعبي شديد الخصوصية.
- ج- اتخاذ قرار بعقد معاهدة سياسية.
- د- اتخاذ قرار بالانضمام لحلف عسكري.

٥٢- تسعى الدول لتحقيق مصالحتها مع الاحتفاظ بشخصيتها المستقلة ، في

ضوء العبارة استنتج : حال رغبة (إثيوبيا) تحقيق التواصل مع العالم الخارجي

يجب عليها إقامة اتحاد

- أ- كونفيدرالي مع جنوب السودان.
- ب- فيدرالي مع جيبوتي.
- ج- كونفيدرالي مع إريتريا
- د- فيدرالي مع الصومال.

٥٣- العملية الانتخابية لها جوانب جغرافية كثيرة تتناولها الجغرافيا

السياسية يخرج عنها

- أ- التركيب السكاني.
ب- الميزان التجاري.
ج- الأنشطة الاقتصادية.
د- التعداد السكاني.

٥٤- الدولة التي حافظت على قوتها وتماسكها رغم تعدد اللغات بها

- أ- البرازيل. ب- أستراليا. ج- سويسرا. د- الأرجنتين.

٥٥- يظهر النظام السياسي في صورته المؤسسية من خلال

- أ- الموافقة على الانضمام لكتل اقتصادي.
ب- التوسع في مشروعات البنية الأساسية.
ج- التوسع في بناء المدارس.
د- تطوير منظومة التأمين الصحي.

٥٦- الدولة التي تحولت من اتحاد كونفيدرالي إلى اتحاد فيدرالي

- أ- فرنسا. ب- مصر. ج- اليابان. د- سويسرا.

٥٧- ادرس الجدول التالي ، ثم استنتج الدولة التي شاركت فيها المرأة

بأكبر نسبة في العملية تتوقع أن تكون

الدولة	نسبة مشاركة المرأة في العملية الانتخابية
١	٢٠%
٢	١٥%
٣	٥%
٤	٧٥%

- أ- باراجواي.
ب- تشاد.
ج- بنجلاديش.
د- ألمانيا.

٥٨- اختيار ممثلي الشعب ارتبط بأحد فروع الجغرافيا السياسية ، والذي ظهر

على يد

- أ- ابن خلدون. ب- أرسطو. ج- سيجفريد. د- راتزل.

٥٩- العبارة التي تعبر عن النظام السياسي في صورته المؤسسية هي

- أ- عقد اتفاقيات دولية.
ب- تطوير التعليم العالي.
ج- تطوير البنية التحتية.
د- تطوير مراكز الشباب.

٦٠- تتعدد المشكلات السياسية والاقتصادية في العالم ، في ضوء ما تم دراسته استنتج التكتل الذي تعاني بعض دوله من تلك المشكلات ...

أ- الناftا. ب- الأبيك.

ج- اتحاد المغرب العربي. د- مجلس التعاون لدول الخليج العربي.

٦١- مجموعة الكوميسا ، اتحاد المغرب العربي ، مجلس التعاون لدول الخليج

العربي تكتلات اقتصادية تتشابه كل دولهم في

أ- الاتصال بالعالم الخارجي. ب- أسباب نشأة الحدود السياسية.

ج- النواحي الاثنوجرافية. د- القوة الديموجرافية.

٦٢- تتشابه أبعاد قوة الدولة مع

أ- مقومات قيام التكتلات الاقتصادية .

ب- مراحل تكوين التكتلات الاقتصادية.

ج- أهداف الأحلاف العسكرية.

د- أهداف قيام التكتلات الاقتصادية.

٦٣- إذا أرادت أوغندا توقيع اتفاقيات بشأن تنظيم حركة الرعاة فإن ذلك

يكون مع دول

أ- جميعها خارج الإيكواس. ب- جميعها خارج الكوميسا.

ج- جميعها تنتمي للإيكواس. د- جميعها تنتمي للكوميسا.

٦٤- عند مقارنة الساحل الجنوبي للبحر المتوسط والساحل الشرقي للمحيط

الهادي نلاحظ

أ- التشابه في عدد التكتلات الاقتصادية المشرفة عليهما .

ب- الاختلاف في عدد التكتلات الاقتصادية.

ج- التطابق في أشكال الدول المطلة عليهما .

د- التشابه في عدد الأحلاف العسكرية المشرفة عليهما.

٦٥- تتشابه الأقلية الموجودة جنوب الصحراء الكبرى بإفريقيا من حيث النوع

مع الأقلية الموجودة في

أ- تكتل الناftا. ب- اتحاد المغرب العربي.

ج- مجلس التعاون لدول الخليج العربي. د- تكتل الكوميسا.

٦٦- البريكس تكتل اقتصادي يضم دول (الصين ، روسيا الاتحادية ، البرازيل ، جنوب إفريقيا ، الهند) ، في ضوء هذه العبارة ومن خلال دراستك استنتج الدول التي تنتمي لتكتلين اقتصاديين هما

- أ- جنوب إفريقيا والصين .
ب- الصين وروسيا الاتحادية .
ج- الهند وجنوب إفريقيا .
د- الهند البرازيل .

٦٧- يرجع اهتمام دول الخليج العربي بإنشاء الاتحاد الجمركي إلى

- أ- زيادة صادراتها من السلع المختلفة .
ب- زيادة وارداتها من السلع المختلفة .
ج- كون الميزان التجاري في صالحهم .
د- اهتمامهم بالصناعات البترولية ومشتقاتها .

٦٨- تكتل اقتصادي نجح في إصدار عملة نقدية موحدة

- أ- الكوميسا .
ب- الاتحاد الأوروبي .
ج- النافتا .
د- اتحاد المغرب العربي .

٦٩- أكثر دول الاتحاد الأوروبي امتلاكاً لقوى بشرية عاملة هي

- أ- إسبانيا .
ب- المجر .
ج- ألمانيا .
د- البرتغال .

٧٠- دولة تستطيع الاستفادة من مزايا الإنتاج الكبير

- أ- تنزانيا .
ب- تشاد .
ج- تونس .
د- أنجولا .

٧١- أحد مقومات نجاح مجلس التعاون لدول الخليج العربي ككتل اقتصادي ...

- أ- الحجم الكبير للسكان .
ب- تنوع الموارد الاقتصادية .
ج- العامل الإثنوغرافي .
د- تطور البحث العلمي .

٧٢- دولة تفتقر لمزايا الإنتاج الكبير

- أ- المغرب .
ب- اليمن .
ج- سلطنة عمان .
د- تونس .

٧٧- تكتل اقتصادي تنفرد دوله بإنتاج المحاصيل الاستوائية هو

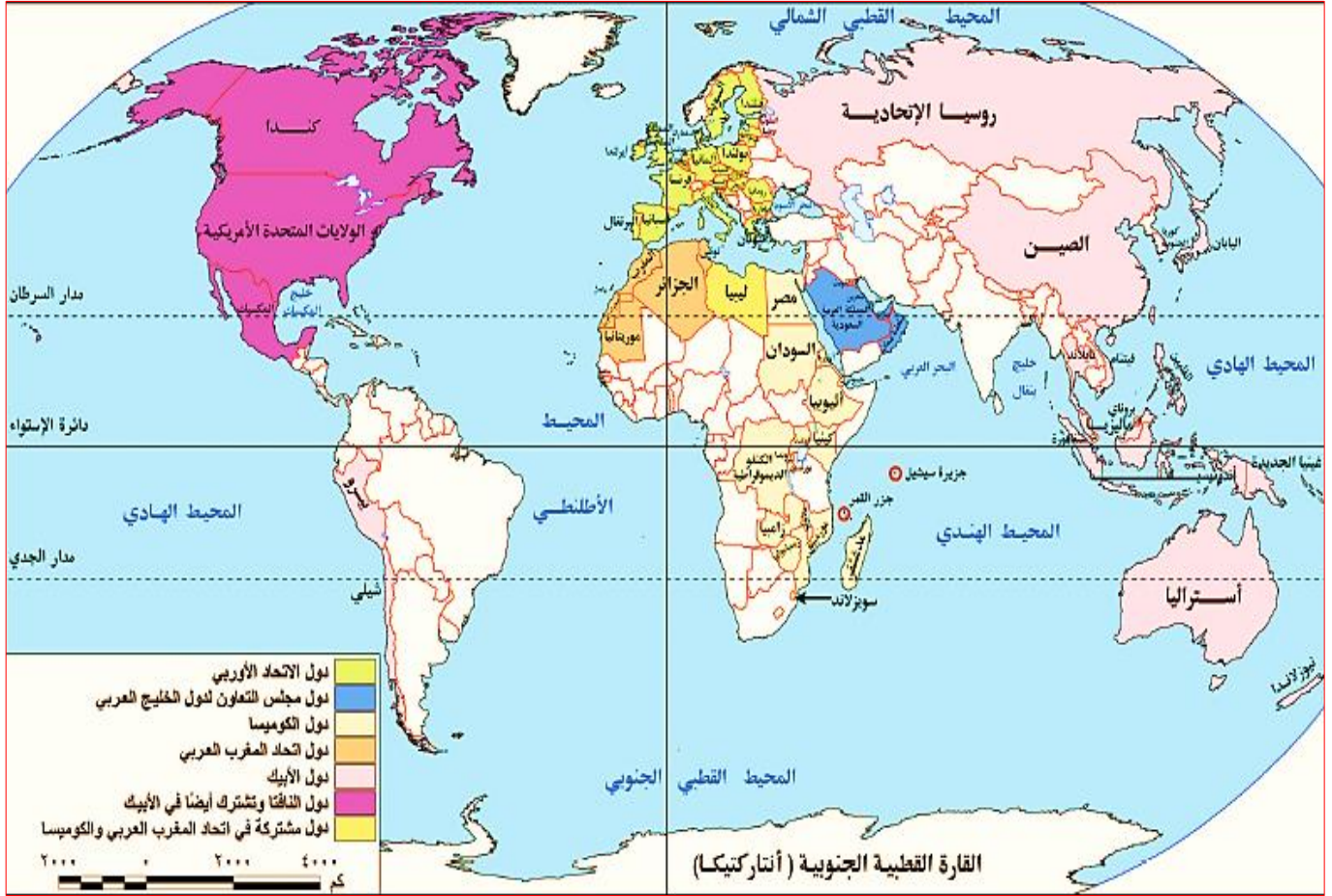
أ- الإيبك.

ب- المغرب العربي.

ج- مجلس التعاون لدول الخليج العربي .

د- الناftا.

٧٨- دولة تنتمي لتكتلين اقتصاديين يمر بها مدار السرطان



أ- المكسيك .

ب- الصين.

ج- الهند.

د- مالي.

٧٩- ادرس تكتل الكوميسا الموضح بالخريطة (السابقة) ، ثم

اسـتنتج : يمكن تسهيل عملية التنمية الاقتصادية وإقامة مشروعات

مشتركة بين دولتي

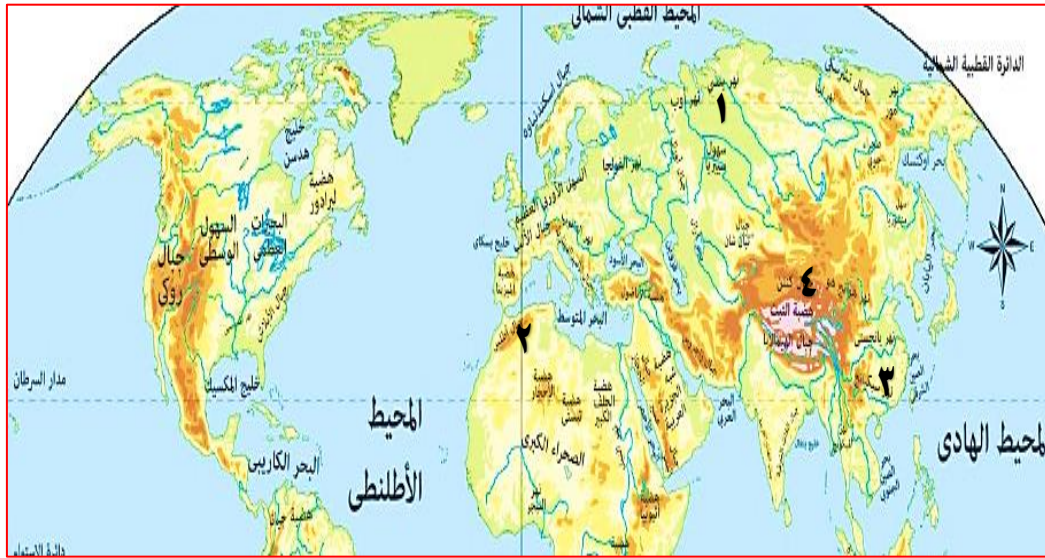
أ- السودان وجنوب السودان .

ب- الجزائر وليبيا.

ج- زامبيا وزيمبابوي.

د- سوازيلاند وجنوب إفريقيا.

٨٠- بدراسة الخريطة التالية : أي المناطق التالية تساعد على سهولة الامتزاز الثقافي



الثقافي

- أ- (٣) .
- ب- (٢) .
- ج- (٤) .
- د- (١) .

٨١- تميز الجانب الشرقي لشبه الجزيرة العربية عن جانبها الغربي في ...

- أ- اختلاف القوميات .
- ب- العامل الإثنوغرافي .
- ج- أهمية الظهر الساحلي .
- د- سيادة الطابع الجبلي .

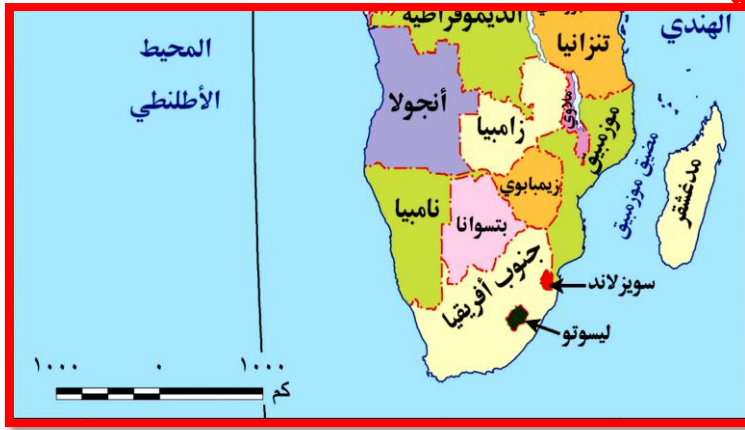
٨٢- بدراسة الخريطة التي أمامك استنتج :

أي الدول التي يمر بها خط جرينتش يتوقع بها النشاط التعديني



- أ- الجزائر .
- ب- توجو .
- ج- بوركينافاسو .
- د- غانا .

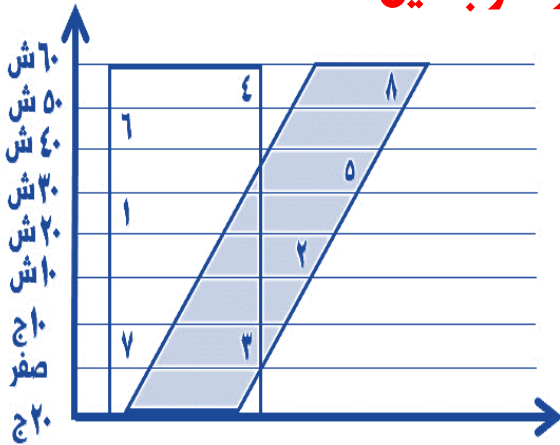
٨٣- من خلال الخريطة التي أمامك رتب الدول وفقاً للقوة المورفولوجية



- أ- جنوب إفريقيا / موزمبيق / بتسوانا / سوازيلاند.
 ب- موزمبيق / بتسوانا / جنوب إفريقيا / سوازيلاند.
 ج- جنوب إفريقيا / بتسوانا / سوازيلاند / موزمبيق .
 د- سوازيلاند / جنوب إفريقيا / بتسوانا / موزمبيق .

٨٤- بدراسة الشكل المقابل استنتج : أي المناطق تتوقع أن تتشابه في

النشاط الاقتصادي الرعوي مع دولتي استراليا والأرجنتين



- أ- (١)، (٢) .
 ب- (٥)، (٦) .
 ج- (٣)، (٤) .
 د- (٧)، (٨) .

٨٥- من الخريطة التي أمامك استنتج : بمقارنة الدول التي تطل على بحيرتي

مالاوي وفيكتوريا نلاحظ أن الدولة الأكثر استفادة منهما



- أ- أوغندا .
 ب- كينيا .
 ج- تنزانيا .
 د- موزمبيق .

٨٦- تصور أن الجناح العربي الأفريقي أصبح دولة فإنه يكون أقرب إلى الشكل



- أ- البري البحري المجرأ.
- ب-المستطيل العرضي.
- ج-المندمج ذو البروز.
- د-البري المجرأ.

٨٧- أي حدود أفغانستان تتوقع أن تقل بها النزاعات



- أ- الجنوبية والغربية.
- ب- الشرقية والجنوبية.
- ج- الغربية والشمالية.
- د- الشمالية والشرقية.

٨٨- من خلال الخريطة المقابلة وضع بعد انقسام السودان لدولتين زاد عدد



الدول المجاورة لدولة

- أ- كينيا.
- ب- أوغندا.
- ج- إفريقيا الوسطى.
- د- الكونغو الديمقراطية.

٨٩- أهم المقومات لجغرافية لتحقيق التجانس السكاني لأى دولة هي العوامل ...

- أ- الإثنوغرافية والعسكرية.
- ب- الإثنوغرافية والتضاريس.
- ج- الإثنوغرافية والسياسية.
- د- الإثنوغرافية والاقتصادية.

٩٠- تساعد السهول كأحد مظاهر السطح على تحقيق الامتزاج الثقافي للدول ، في ضوء تلك العبارة وضح : يتوقع أن يقل الامتزاج الثقافي في سهول

أ- النيل . ب- الأمازون . ج- الفرات . د- الراين .

٩١- تأثرت العلاقات الدولية لدولة جيبوتي إيجاباً بفضل

أ- الموقع الجغرافي . ب- الموقع الفلكي . ج- المساحة . د- الشكل .

٩٢- لعبت المواقع الاستراتيجية دوراً هاماً في إعادة التوازن في بعض المناطق ، كما لعب العنصر البشري دوراً في زيادة الأهمية الاستراتيجية لبعض المواقع الأخرى ، في ضوء هذه العبارة اسـتنتج : الدول التي لعبت بها المواقع

الاستراتيجية والعنصر البشري دوراً مهماً في حوض البحر المتوسط هي

أ- المغرب والبرتغال . ب- إسبانيا وتونس .
ج- المغرب ومصر . د- إيطاليا وجيبوتي .

٩٣- من خلال الخريطة استنتج :



يمر خط الاستواء بمجموعة من الدول أكبرها مساحة

أ- البرازيل . ب- إندونيسيا .
ج- الكونغو الديمقراطية . د- تنزانيا .

٩٤- ترتب على اندماج اليمن الجنوبي مع اليمن الشمالي في دولة واحدة

أ- تناقص عدد الدول المجاورة لسلطنة عمان .
ب- زيادة عدد الدول المجاورة لسلطنة عمان .
ج- تناقص عدد الدول المجاورة للسعودية .
د- زيادة عدد الدول المجاورة للسعودية .

٩٥- أحد أسباب النزاع بين روسيا وأوكرانيا يرجع إلي رغبة أوكرانيا في الانضمام لحلف الناتو ، في ضوء هذه العبارة استنتج : في حال خروج لاجئين من أوكرانيا فإن أقرب الدول لاستقبالهم هي

- أ- صربيا .
- ب- النمسا .
- ج- التشيك .
- د- بولندا .

٩٦- دولة نصف قطرها ٤٥٠ كم تقريباً ، بذلك تكون أقرب للشكل

- أ- البري المجزأ .
- ب- المندمج المنتظم .
- ج- الشريطي الطولي .
- د- الشريطي العرضي .

٩٧- الحد السياسي البحري للدولة يختفي تماماً في دولة

- أ- أوغندا .
- ب- الكونغو الديمقراطية .
- ج- سنغافورة .
- د- البحرين .

٩٨- هناك دولة في النصف الغربي من الكرة الأرضية تتمتع بموقع استراتيجي

متميز منها

- أ- الهند .
- ب- اليمن .
- ج- المغرب .
- د- البرازيل .

٩٩- تدعم القيادة المصرية البحث العلمي والتطور التكنولوجي بهدف

- أ- زيادة الصادرات وتقليل الواردات .
- ب- التغلب على الهجرة الداخلية .
- ج- تشجيع سياسة الإغراق داخل مصر .
- د- الحد من هجرة العقول .

١٠٠- ادرس الخريطة جيداً ثم استنتج :



(تساعد السهول على تحقيق الامتزاج الثقافي بين السكان) ، السهول التي تخرج

عن ذلك

- أ- سهول سيبيريا شمال آسيا.
- ب- السهل الأوروبي العظيم.
- ج- السهول الوسطى بأمريكا الشمالية.
- د- سهول البمباس بأمريكا الجنوبية.

١٠١- من خلال الجدول استنتج : الدولة الأقل تضرراً حال تعرضها لزلازل :

الدولة	المساحة بالألف كم ^٢
س	٣٠
ص	٢٥٠
ع	٧٠٠
ل	١٠٠

- أ- ل .
- ب- ع .
- ج- ص .
- د- س .

١٠٢- دولة هولندا لأقل منعة أثناء تعرضها للاحتلال يرجع ذلك لوقوعها في

- أ- سهول البمباس .
- ب- السهول الوسطى .
- ج- السهل الأوروبي العظيم .
- د- سهول سيبيريا .

١٠٣- الحجم السكاني لبعض الدول يدفعها لعقد تحالفات سياسية وعسكرية

مع الدول الكبرى ويظهر ذلك في

أ- آسيا . ب- أمريكا الجنوبية . ج- إفريقيا . د- أمريكا الشمالية .

١٠٤- (تقع مصر في الحوض الأدنى لنهر النيل ، بينما تقع نيجيريا في الحوض الأدنى

لنهر النيجر) ، في ضوء العبارة استنتج : تتشابه كل من مصر ونيجيريا في

أ- اتجاه النهر في كل منهما .

ب- الحاجة لتفعيل اتفاقيات الأنهار .

ج- أن أنهارهما يمثلان حدوداً سياسية لهما .

د- استغلال أنهارهما لتحقيق التواصل الحضاري .

١٠٥- ادرس الجدول ثم استنتج : الدولة التي قد تعاني من صعوبة الاتصال

بين أجزائها وتتميز بالتنوع المناخي

الدولة	خصائص الدولة من حيث الشكل والامتداد الفلكي
س	تمتد من الشرق للغرب بطول ٤٥٠ كم ومن الشمال للجنوب بطول ٤٠٠ كم
ع	تمتد في ٤ دوائر عرض و ١٥ خط طول
ن	نصف قطرها ٢٥٠ كم
م	تمتد من الشرق للغرب بطول ٢٠٠ كم ومن الشمال للجنوب بطول ١٢٠٠ كم

أ- ع .

ب- س .

ج- م .

د- ن .

١٠٦- أمامك خريطة لسلطنة بروناي ادرسها ثم استنتج : تتشابه بروناي من



حيث الشكل مع دولة ...

أ- فرنسا .

ب- اليابان .

ج- إيطاليا .

د- الولايات المتحدة .

١٠٧- رغم مميزات الجبال اقتصادياً وعسكرياً لدول إلا أن لها أحياناً أثراً اجتماعياً سلبياً على بعض الدول مثل

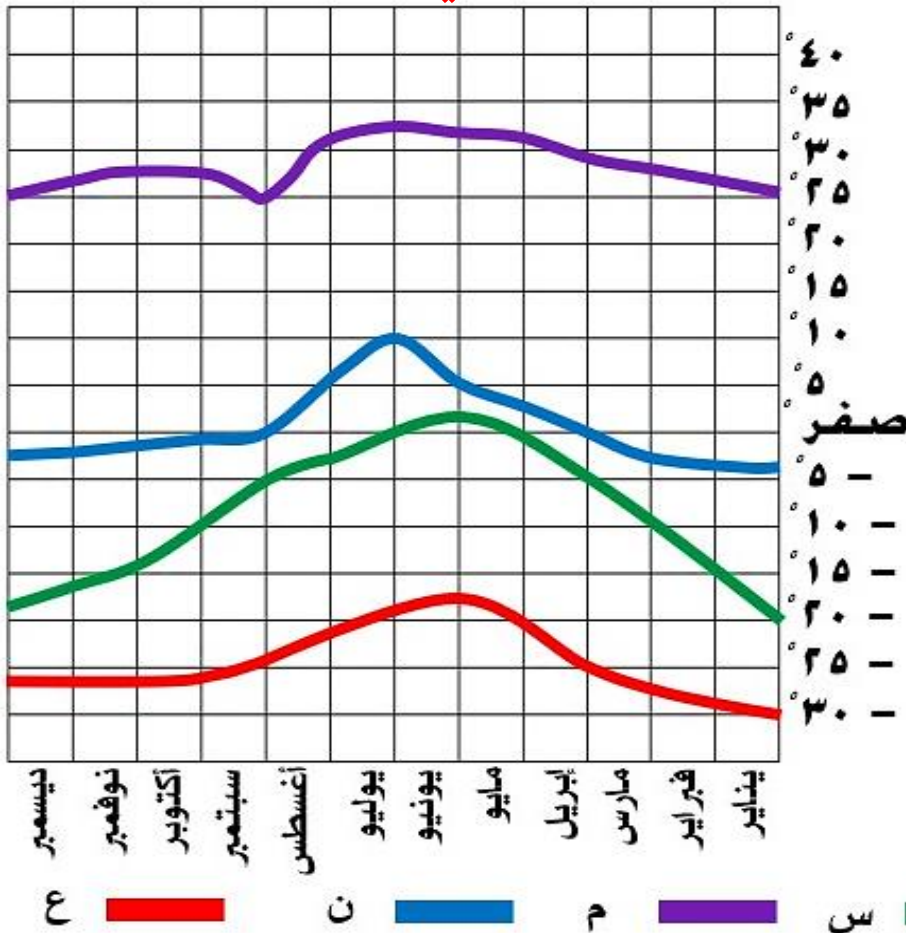
- أ- الولايات المتحدة .
- ب- مصر .
- ج- السعودية .
- د- إسبانيا .

١٠٨- (المساحة الكبيرة - الغابات - المرتفعات - الأنهار) ، جميعها تشترك في أنها

- أ- تعزز وحدة السكان بالدولة .
- ب- ظاهرات استاتيكية .
- ج- ظاهرات ديناميكية .
- د- ذات أبعاد استراتيجية .

١٠٩- أمامك رسم بياني لبعض المناطق موزع عليها متوسط درجات الحرارة على مدار السنة في ضوء ذلك استنتج :

أي المناطق التالية تزداد فيها فاعلية النشاط البشري للسكان



١١٠- مساحة بعض الدول تعطي لها بعداً استراتيجياً وقت السلم والحرب ، ويظهر ذلك في دولة

- أ- تايلاند .
- ب- بلجيكا .
- ج- هولندا .
- د- الصين .

١١١- حال تشابه إسبانيا مع هولندا في مظهرها التضاريسي فإن ذلك سيؤدي إلى:

- أ- صعوبة السيطرة عليها .
- ب- تعزيز روح الانفصال لدى الأقليات.
- ج- تعزيز الوحدة بين سكان الدولة.
- د- صعوبة تنميتها واستثمار مواردها .

١١٢- دولة تمتد في ٤٠ خط طول و٧ دوائر عرض تتوقع أن يكون شكلها

- أ- مستطيل طولي .
- ب- مستطيل عرضي
- ج- مندمج ذو بروز .
- د- مندمج .

١١٣- تتشابه السـياحة في جبال كشمير مع السياحة في شرق البحر

المتوسط بمنطقة

- أ- جبال الشام .
- ب- جبال عسير .
- ج- جبال أورال .
- د- جبال البحر الأحمر .

١١٤- خروج المملكة المتحدة رسمياً من الاتحاد الأوروبي يتطلب منها ...

- أ- إعادة تخطيط الحد السياسي.
- ب- القيام بعملية المسح الميداني للحد .
- ج- تفعيل المرحلة الرابعة للحد السياسي .
- د- تغيير مسار الحد السياسي لها .

١١٥- كان لحركة السكان أثرها في نشأة الحدود في

- أ- شمال وجنوب استراليا .
- ب- شرق وغرب أنجولا .
- ج- شمال وجنوب الولايات المتحدة.
- د- شرق وغرب إيطاليا.

١١٦- مرحلة من مراحل تخطيط الحدود السياسية تحتاج إلى القوة والحكمة

معاً هي

- أ- التعريف والتخطيط .
- ب- إدارة الحد .
- ج- التحديد .
- د- التعيين .

١١٧- تعد المنطقة المشار إليها



- أ- ظاهرة ذات مساحة .
- ب- ظاهرة طبيعية .
- ج- غنية بالموارد .
- د- قابلة للنقل .

١١٨- ارتبطت الحدود الطبيعية بظواهرات مرتبطة باليابس كما هو الحال بين

دولتي

- أ- تنزانيا وأوغندا .
ب- المكسيك والولايات المتحدة الأمريكية .
ج- فرنسا وإسبانيا .
د- فرنسا وألمانيا .

١١٩- التقطت الأقمار الصناعية سفينة بالبحر المتوسط علي بعد ٣٢ ميل بحري

من خط الساحل لدولة ما فإنها بذلك تكون في المياه

- أ- الإقليمية .
ب- الداخلية .
ج- التكميلية .
د- الدولية .

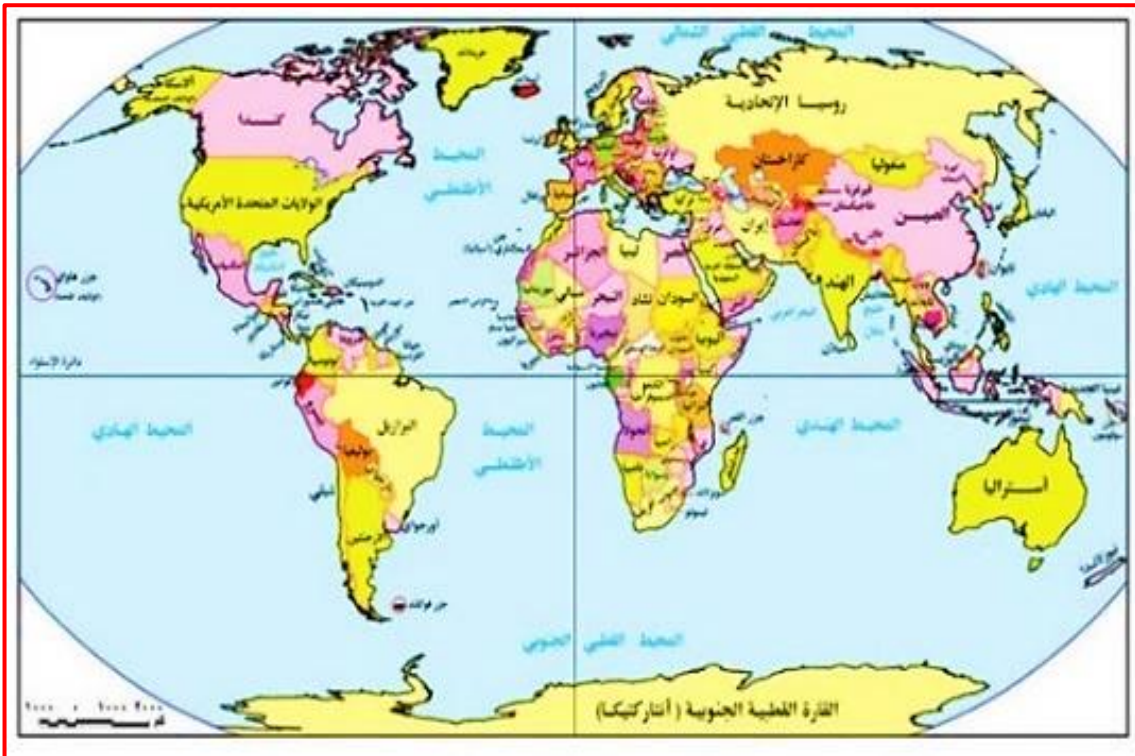
١٢٠- تحركت سفينة من ميناء بورسعيد على البحر المتوسط متجهة نحو ميناء

سفاجا على البحر الأحمر فإنها بذلك تمر بمناطق مائية متعددة هي

- أ- إقليمية - تكميلية .
ب- داخلية - محايدة .
ج- دولية - تكميلية .
د- داخلية - إقليمية .

١٢١- ترك الاستعمار العديد من المشكلات في العالم منها مشكلة إثنوغرافية

تقع في نصف الكرة



- أ- الشمال الشرقي .
ب- الجنوبي الغربي .
ج- الشمالي الغربي .
د- الجنوبي الشرقي .

١٢٢- الحد الجنوبي الشرقي لدولة كندا يصنف على أنه حداً

- أ- جبلياً .
ب- بحرياً .
ج- إثنوغرافياً .
د- فلكياً .

١٢٣- الحد السياسي الذي يتقارب في درجة ثباته مع التخوم يفصل بين دولتي ...

- أ- فرنسا وألمانيا.
ب- الولايات المتحدة والمكسيك.
ج- مصر وليبيا.
د- شيلي والأرجنتين.

١٢٤- كان لحركة السكان أثره الواضح في نشأة الحدود في

- أ- غرب الأرجنتين.
ب- شرق ألمانيا.
ج- شمال إسبانيا.
د- غرب ناميبيا.

١٢٥- تأكدت السيادة المطلقة للوحدات السياسية على أراضيها بظهور

- أ- العولة.
ب- التخوم.
ج- الحدود السياسية.
د- التكتلات الاقتصادية.

١٢٦- يعتبر خليج كاليفورنيا بأمريكا الشمالية بمثابة



- أ- مياه داخلية للمكسيك .
ب- مياه داخلية للولايات المتحدة .
ج- مياه إقليمية للمكسيك .
د- مياه إقليمية للولايات المتحدة .

١٢٧- (تعدد العوامل التي أثرت على تغير الحدود في العالم) ، في ضوء ما درسته

استنتج : الحد الذي شهد تغيرات لعوامل طبيعية يقع في

- أ- جنوب غرب المكسيك .
ب- شمال شرق الولايات المتحدة.
ج- شمال شرق المكسيك .
د- شمال غرب الولايات المتحدة .

١٢٨- من خصائص الحدود أنها قابلة للحركة والاختفاء أحياناً ، في ضوء العبارة

استنتج : المنطقة التي شهدت تعديلاً للحدود في العقد الأخير من القرن العشرين

تشرف على

- أ- بحر قزوين. ب- خليج هدسن. ج- الخليج العربي. د- بحر المانش.

١٢٩- الحدود التي توجد على أبعاد متساوية من ظاهرة طبيعية هي

- أ- النهرية. ب- الجبلية. ج- الحضارية. د- الهندسية.

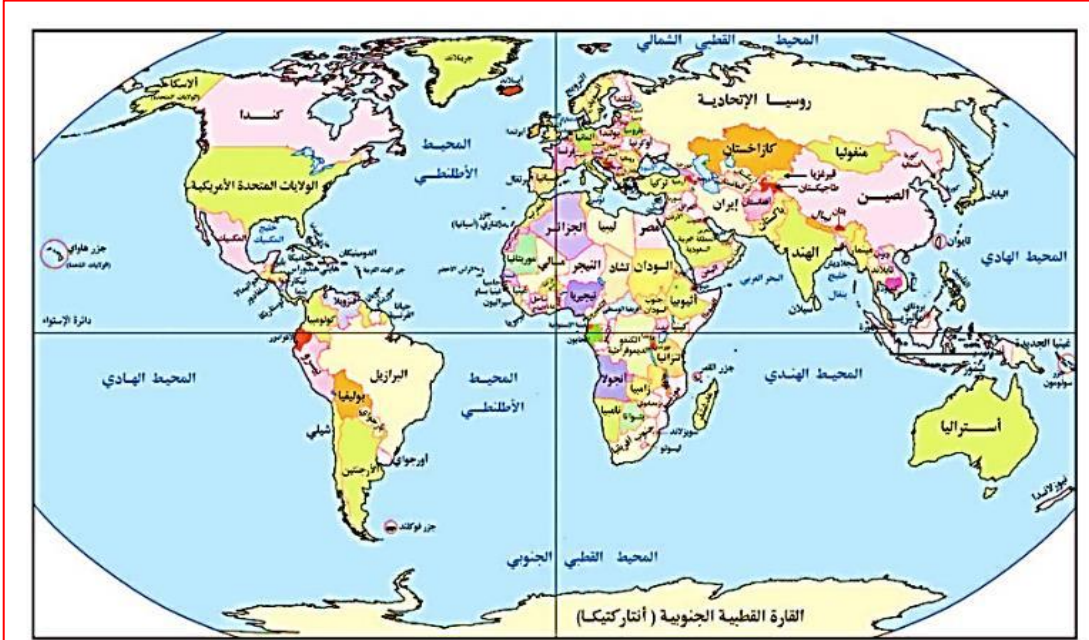
١٣٠- يبدأ الرصيف القاري مع بداية المياه

- أ- المحايدة. ب- الداخلية. ج- الإقليمية. د- التكميلية.

١٣٢- ادرس الخريطين ثم استنتج : الدول الأوروبية التي ساهمت في رسم الحدود السياسية بمعظم دول الوطن العربي



خريطة (٢-٩) : خريطة العالم السياسية قبل الحرب العالمية الأولى



خريطة (٢-١٠) : خريطة العالم السياسية عام ٢٠١٥م

- أ- ألمانيا والبرتغال.
- ب- فرنسا وانجلترا.
- ج- بلجيكا وإسبانيا.
- د- بولندا وهولندا.

١٣٣- ظهر أثر حركة السكان في نشأة الحدود السياسية

- أ- جنوب اليونان .
- ب- شمال رومانيا .
- ج- غرب البرتغال.
- د- شرق المملكة المتحدة .

١٣٤- دولة تهتم بتطوير قواتها البحرية

- أ- استراليا.
- ب- إثيوبيا.
- ج- النمسا.
- د- أفغانستان.

١٣٥- تتميز الجبال بأنها ظاهرة دائمة ومرئية وعريضة ووعرة وقليلة السكان



، في ضوء العبارة ، ومن خلال الخريطة استنتج :
متوقع أن يقل السكان على الحدود بين الأرجنتين

و

- أ- بارجواي .
- ب- شيلي .
- ج- البرازيل .
- د- أوروغواي .

١٣٦- المناطق التي كانت تفصل بين مجال نفوذ الدول الكبرى في العصور

القديمة والوسطى تتميز بـ

- أ- التركز السكاني .
- ب- الديناميكية والتغير .
- ج- الأساس القانون .
- د- العمق الجغرافي .

١٣٧- العامل الذي أدى إلى نشأة الحدود السياسية في أمريكا الجنوبية

هو

- أ- تقسيم الاستعمار لمستعمراته .
- ب- زيادة عدد السكان .
- ج- تنمية المناطق الهامشية .
- د- الحروب .

١٣٨- ادرس الخريطة التي أمامك ، ثم استنتج: تختفي بين دول الوطن العربي

الحدود

- أ- البحرية .
- ب- الإثنوغرافية .
- ج- الهندسية .
- د- الفلكية .



١٣٩- (الجزائر- النيجر- تنزانيا) . دول إفريقية تتشابه جميعها في



- أ- الانضمام لحلف عسكري واحد.
- ب- الانضمام لتكتل اقتصادي واحد.
- ج- سهولة الاتصال بالعالم الخارجي.
- د- أسباب نشأة الحد السياسي.

١٤٠- تحركت سفينة من ميناء الإسكندرية نحو ميناء بورسعيد ، فإن آخر منطقة



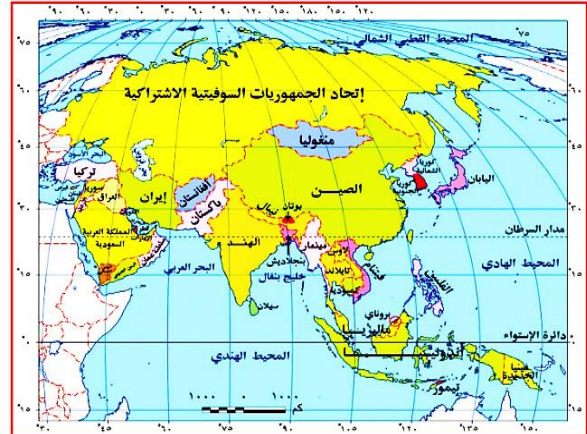
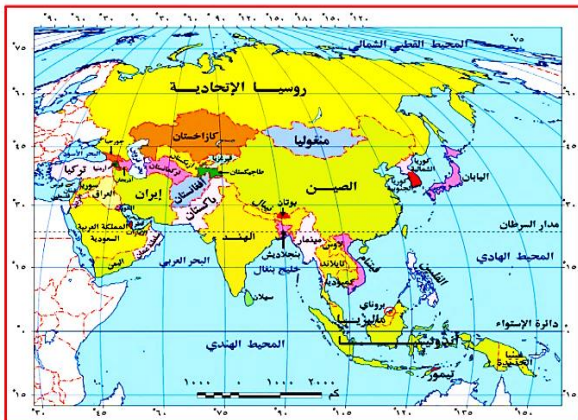
مياه داخلية تمر عليها هي

- أ- مصب النيل برشيد.
- ب- بحيرة المنزلة.
- ج- مصب النيل بدمياط.
- د- بحيرة البرلس.

١٤١- من خلال الخريطين استنتج : الدولة التي لم تتأثر حدودها بعد انهيار

الاتحاد السوفيتي

- أ- إيران .
- ب- أفغانستان .
- ج- تركيا .
- د- منغوليا .



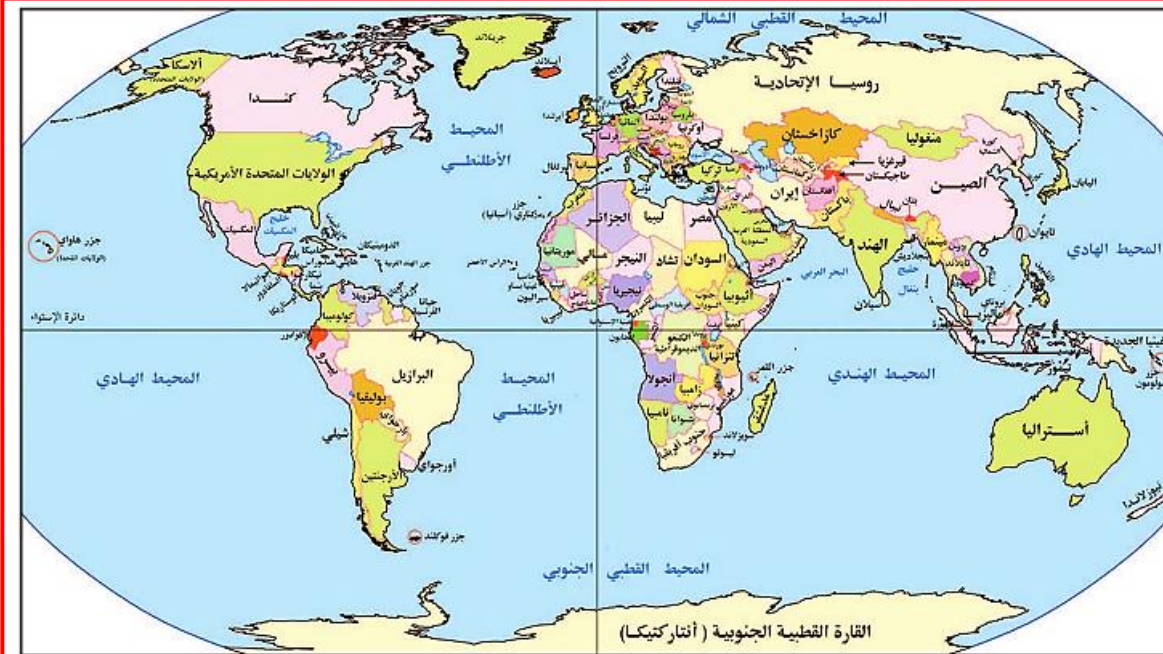
أسيا
السياسية
الآن

أسيا
قبل
تفكك
الاتحاد
السوفيتي
ديسمبر
١٩٩١

١٤٢- دولة ظهرت بين الحربين العالميتين على خريطة العالم السياسية هي



خريطة (٢-٩) : خريطة العالم السياسية قبل الحرب العالمية الأولى



خريطة (٢-١٠) : خريطة العالم السياسية عام ٢٠١٥م

أ- أوزباكستان . ب- منغوليا . ج- جورجيا . د- فنلندا.

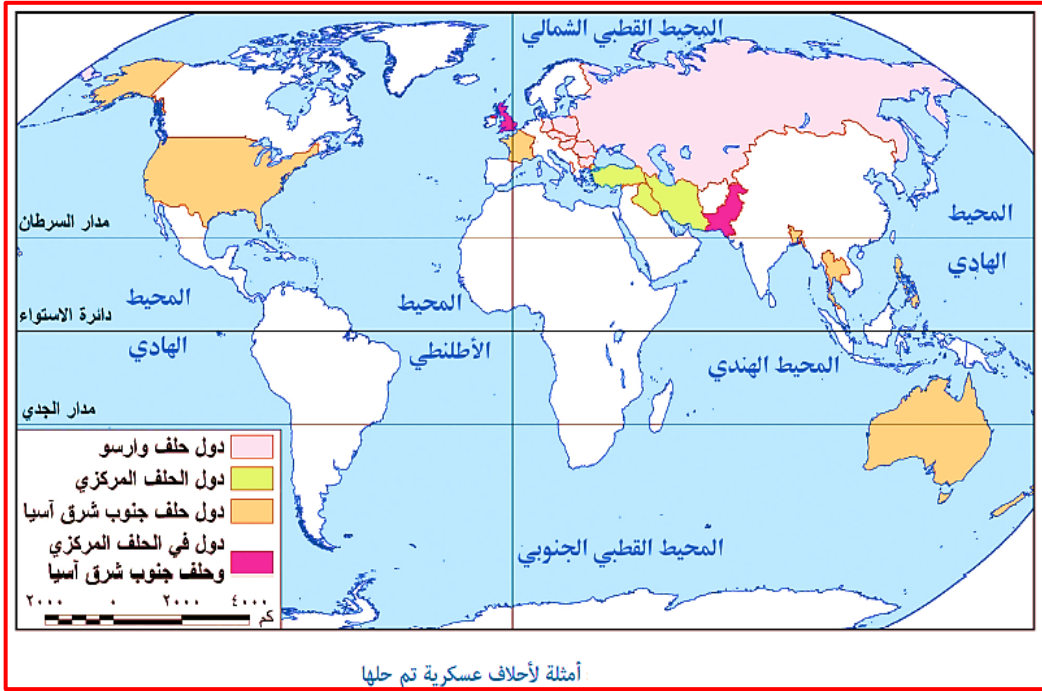
١٤٣- تزامن الخلاف بين الهند وباكستان مع

أ- تأسيس حلف الناتو. ب- عقد مؤتمر عدم الانحياز.

ج- إعلان اتفاقية برشلونة. د- تأسيس حلف وارسو.

١٤٤- في ضوء الخريطة التالية : استنتج الدولة العربية التي انضمت لحلف

عسكري هي



- أ- مصر .
- ب- العراق.
- ج- السودان.
- د- اليمن.

١٤٥- لعبت الكوارث الطبيعية دوراً في إبراز جهود حلف الناتو بدولة

- أ- البوسنة والهرسك .
- ب- باكستان .
- ج- مقدونيا .
- د- كرواتيا .

١٤٦- دولة تستطيع الدفاع عن نفسها دون استنزاف مواردها

- أ- البرازيل .
- ب- اليونان .
- ج- السويد .
- د- الصين .

١٤٧- التغيرات التي طرأت في نهاية الألفية الثانية شهدتها حدود ...

- أ- كوريا الشمالية .
- ب- الهند .
- ج- الصين .
- د- منغوليا .

١٤٨- ظهر الأثر الإيجابي للأمم المتحدة في حل النزاعات بمنطقة

- أ- شمال البحر المتوسط .
- ب- شمال البحر الكاريبي .
- ج- شمال استراليا .
- د- شمال أمريكا الشمالية .

١٤٩- جميع الأحلاف العسكرية ذات صبغة رأسمالية يخرج عنها حلف ...

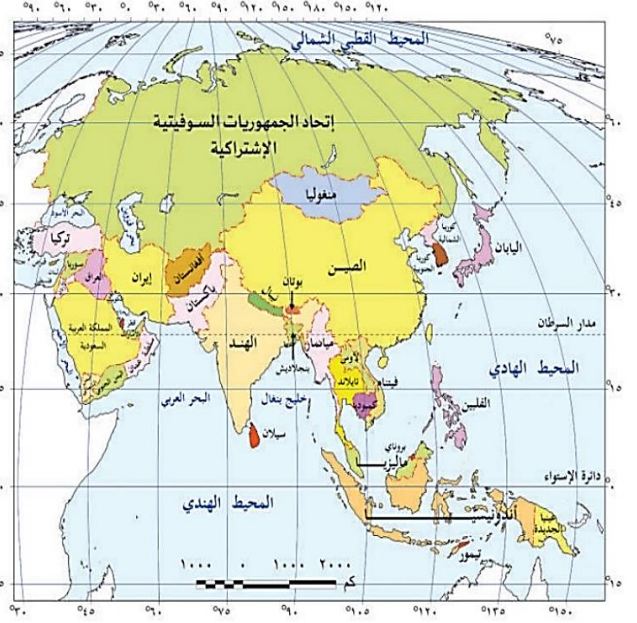
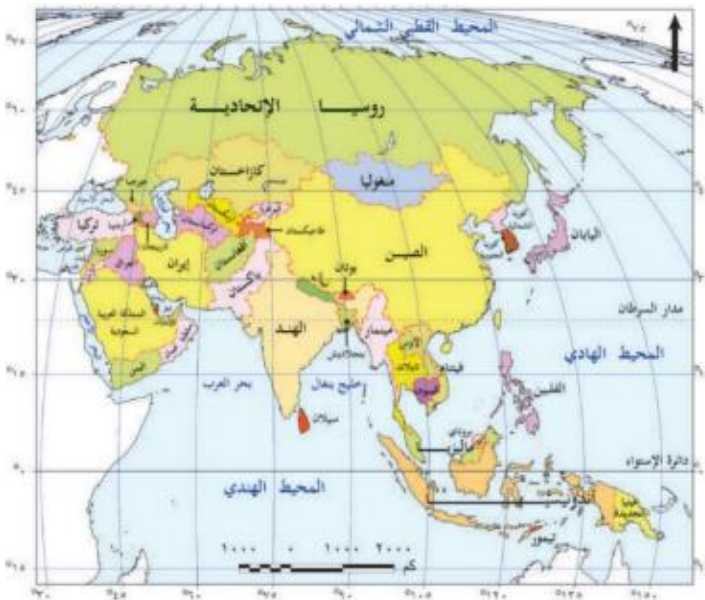
- أ- جنوب شرق آسيا .
- ب- المركزي .
- ج- الناتو .
- د- وارسو .

١٥٠- ادرس الخريطة جيداً ، ثم استنتج :
جميع القارات الآتية شهدت إمبراطوريات تخرج منها قارة



أ- أوروبا . ب- إفريقيا . ج- آسيا . د- أمريكا الجنوبية .

١٥١- ادرس الخريطين ، ثم استنتج :
شهدت منطقة جنوب شرق البحر الأحمر



أ- تناقص عدد دول الجناح العربي الآسيوي
ب- زيادة مساحة دول الجناح العربي الآسيوي
ج- زيادة مساحة دول الجناح العربي الآسيوي
د- زيادة عدد دول الجناح العربي الآسيوي

**١٥٢- "أدت الحرب الروسية الأوكرانية لأزمة غذاء عالمية".
في ضوء العبارة استنتج : المنظمة التي يزداد دورها للتخفيف من آثار هذه
الأزمة.....**

- أ- الفاو FAO .
ب- اليونيدو UNIDO .
ج- البنك الدولي للإنشاء والتعمير .
د- صندوق النقد الدولي .

١٥٣- محاولة تطبيق الديمقراطية كانت في حل مشكلة

- أ- كشمير شمال غرب الهند .
ب- كتالونيا بإسبانيا .
ج- الأقلية النمساوية بإيطاليا .
د- الباسك بإسبانيا .

**١٥٤- أكثر الدول الإفريقية حرصاً على علاقاتها الودية مع جيرانها بتوقيعها
معاهدات الرعاة هي**

- أ- تنزانيا . ب- السنغال . ج- المغرب . د- جنوب إفريقيا .

**١٥٥- يجري نهر النيجر في غرب افريقيا ويتجه جنوباً ليصب في خليج غينيا ، في
ضوء العبارة استنتج : يقع الحوض الأدنى لنهر النيجر في إحدى دول مجموعة**

الإيكواس هي

- أ- غينيا . ب- نيجيريا . ج- النيجر . د- مالي .

١٥٦- الموقع الاستراتيجي الذي لعب التحكيم الدولي دوراً في حل بعض

النزاعات الاقتصادية بالقرب منه هو مضيق

- أ- جبل طارق . ب- هرمز .
ج- صقلية . د- قناة السويس .

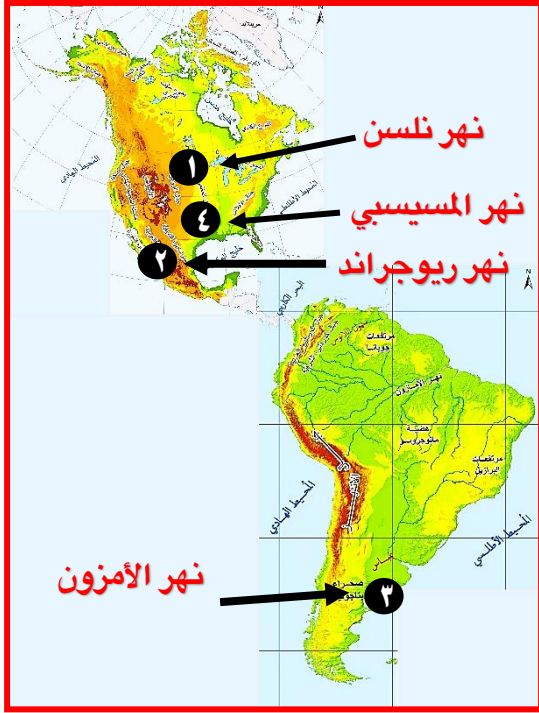
١٥٧- أي الموارد التالية تشهد صراعاً بين الدول

- أ- الوقود الحيوي .
ب- الوقود الحفري .
ج- الكتلة الحيوية .
د- الطاقة الكهربائية .

١٥٨- دولة تغلبت علي موقعها الجغرافي بفضل اتفاقيات الانهار الدولية

- أ- النمسا .
ب- تشاد .
ج- الجزائر .
د- إيطاليا .

١٥٨- في ضوء الخريطة التي أمامك استنتج : النهر الذي قد يثير مشكلة حدودية مستقبلاً هو النهر الذي يمثل رقم



- أ- (١) .
- ب- (٢) .
- ج- (٣) .
- د- (٤) .

١٥٩- دولة بحرية مجزأة كانت سبباً في مشكلة حدودية سياسية في جنوب آسيا

- أ- إسبانيا .
- ب- بريطانيا .
- ج- إيطاليا .
- د- اليابان .

١٦٠- قرار محكمة العدل الدولية بانحراف الحد البحري بين تونس وليبيا بزاوية ٥٢. نتيجة تغيير اتجاه الساحل لدولة تونس نحو

- أ- الشمال الشرقي .
- ب- الشمال الغربي .
- ج- الجنوب الشرقي .
- د- الجنوب الغربي .

١٦١- ادرس الخريطة المقابلة ، ثم استنتج : يصعب حدوث مشكلات حدودية



بين دولتي

- أ- تشاد وكينيا .
- ب- تنزانيا وكينيا .
- ج- تشاد وإفريقيا الوسطى .
- د- تنزانيا وموزمبيق .

١٦٢- الدول الأكثر تضرراً بظهور الشركات متعددة الجنسيات ، تقع معظمها

في قارة

- أ- أستراليا.
- ب- أوروبا.
- ج- أمريكا الشمالية.
- د- إفريقيا.

١٦٣- كل الأنهار التالية تخضع لاتفاقيات الأنهار الدولية ، ويخرج عنها

- أ- الدانوب.
- ب- النيل.
- ج- السين.
- د- الراين.

١٦٤- توضح الخريطة أمامك مشكلتة تُصنف على أنها



- أ- ديموغرافية سياسية.
- ب- اقتصادية سياسية.
- ج- اجتماعية سياسية.
- د- حدودية سياسية.

١٦٥- الدولة التي تأثرت حدودها الغربية والجنوبية بمشكلات رعوية هي

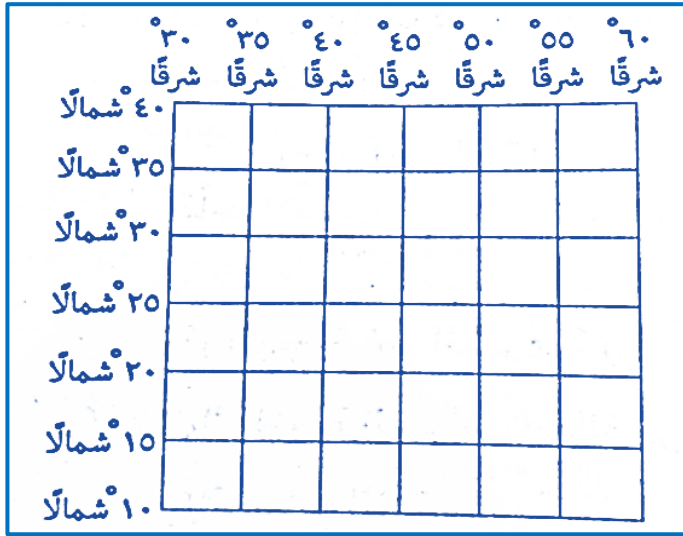
- أ- السعودية.
- ب- السودان.
- ج- نيجيريا.
- د- موريتانيا.

١٦٦- أحد مصادر الطاقة الحفرية له أثر سياسي محدود

- أ- الغاز الطبيعي.
- ب- الفحم.
- ج- البترول.
- د- الطاقة الكهرومائية.

١٦٧- أمامك إحداثيات للدولة (س) التي تنتشر التي تنتشر بها أقلية استتعن بالشكل المقابل ثم استنتج المنطقة التي تشكل فيها الأقلية

خطورة على الدولة تنتشر بين



أ- ١٠ : ٢٥ شمالاً ، ٣٠ : ٤٥ شرقاً .

ب- ١٥ : ٣٠ شمالاً ، ٤٠ : ٥٠ شرقاً .

ج- ٣٥ : ٤٠ شمالاً ، ٥٥ : ٦٠ شرقاً .

د- ١٠ : ٣٥ شمالاً ، ٣٠ : ٥٥ شرقاً .

١٦٨- شهدت بعض المناطق في القرن الماضي ممارسة بعض الأقليات

للديكتاتورية وهو ما ظهر في

أ- إيطاليا .

ب- الولايات المتحدة الأمريكية .

ج- جنوب إفريقيا .

د- العراق .

١٦٩- دولة شهدت حروبا مسلحة ومع ذلك لم تشهد ظهور لاجئين هي

أ- أوكرانيا .

ب- مصر .

ج- البوسنة والهرسك .

د- فلسطين .

١٧٠- تزداد خطورة الأقلية علي الدولة إذا كانت هناك قوي مجاورة تشجعها

علي تحقيق مطالبها ، في ضوء العبارة السابقة ومن خلال الخريطة التي أمامك

استنتج : أكثر الدول التي قد تدعم اقلية تيمور هي ...



أ- الفلبين .

ب- غينيا الجديدة .

ج- ماليزيا .

د- أستراليا .

١٧١- تزداد خطورة الاقلية بالدولة حال وجود وطن لها وينطبق ذلك علي

الأقلية الموجودة بقارة

أ- إفريقيا. ب- أمريكا الشمالية. ج- أمريكا الجنوبية. د- آسيا.

١٧٢- أكثر الدول المتضررة نتيجة الهجرات غير الشرعية (غير الرسمية) هي

أ- الولايات المتحدة. ب- البرازيل. ج- إيطاليا. د- ليبيا.

١٧٣- تتشابه كلاً من تركيا وإسبانيا في

أ- ظهور مشكلات اجتماعية بهما. ب- الخصائص الإثنوغرافية بهما.

ج- انضمامها لتكتل اقتصادي واحد. د- تطابق الشكل بهما.

١٧٤- أقل أنواع الأقليات انتشاراً على خريطة العالم هي الأقلية

أ- الدينية. ب- القومية. ج- اللغوية. د- العرقية.

١٧٥- أكثر مناطق الوطن العربي التي تعاني من ازدواجية الفكر وتنوع العادات

هي

أ- الخليج العربي. ب- وادي النيل.

ج- المغرب العربي. د- الهلال الخصيب.

١٧٦- ظهر أثر القوة العسكرية في العلاقات الدولية في

أ- غرب البحر الأسود. ب- جنوب البحر الأسود.

ج- شمال البحر الأسود. د- شرق البحر الأسود.

١٧٧- تدخلت الجزائر عام ١٩٧٥ لحل النزاع بين العراق وإيران حول منطقة

شط العرب - في ضوء العبارة اجب :

تدخل الجزائر لحل النزاع بين ايران والعراق يعبر عن أحد طرق النزاعات

الدولية وهو

أ- المساعي الحميدة. ب- المفاوضات.

ج- التوفيق. د- التحكيم.

١٧٨- استطاعت الصين في بداية الاستقطاب العالمي ان تحتل مكانة بفضل

قوتها

أ- المورفولوجية. ب- الاقتصادية.

ج- العسكرية. د- الديموجرافية.

١٧٩- الدولة العربية التي تمتلك علاقات دولية قوية بحكم موقعها وقوتها ...

أ- اليمن . ب- مصر . ج- العراق . د- السودان .

١٨٠- كان لفشل معاهدة الصداقة والتعاون والمساعدة المتبادلة أثر في ..

أ- تناقص الأقليات اللغوية . ب- زيادة الأقليات القومية .
ج- زيادة الأقليات العرقية . د- تناقص الأقليات الدينية .

١٨١- دولة طبقت مبادئ الديمقراطية في التعامل مع الأقليات هي ...

أ- السودان . ب- الجزائر . ج- تونس . د- العراق .

١٨٢- (مالي - موريتانيا - السعودية - اليمن) ، القاسم المشترك بين هذه

الدول

أ- توقيع اتفاقيات لمشكلات حدودية .
ب- سهولة الاتصال بالعالم الخارجي .
ج- الانضمام لتكتلات اقتصادية .
د- الإشراف على مواقع استراتيجية .

١٨٣- قامت المملكة العربية السعودية باحتجاز قارب هجرة غير شرعية

بمياهاها في الخليج العربي) ، في ضوء العبارة استنتج : تتوقع أن يكون هذا

القارب قادماً من دولة

أ- بنجلاديش . ب- كوريا الجنوبية . ج- سنغافورة . د- ماليزيا .

١٨٤- ارتبط ظهور معظم الأقليات في العالم بنشأة

أ- المنظمات الإقليمية . ب- النظام العالمي الجديد .
ج- الوحدات السياسية . د- المنظمات الدولية .

١٨٥- الدولة الأقل تضرراً من الهجرات غير الشرعية بحكم موقعها الجغرافي

هي

أ- اليونان . ب- إيطاليا . ج- فنلندا . د- إسبانيا .

١٨٦- مقالي : ما العلاقة بين : الثورة الصناعية والعلاقات الدولية .



١٨٧- (جاءت الحملة الفرنسية لمصر عام ١٧٩٨م بعد فشل نابليون في هزيمة إنجلترا في عقر دارها لموقعها البحري الحصين وأسطولها الحربي القوي) ، أي من موضوعات الجغرافيا السياسية التالية تعبر عنها الفقرة السابقة

النظام العالمي الجديد . ب- التحليل السياسي للقوة.

ج- الصراح الأيدلوجي . د- سياسية الاستقطاب العالمي.

١٨٨- حسب دراسة الحدود السياسية لدولة سويسرا فإن اللغة الفرنسية

تنتشر في

أ- الشمال . ب- الشرق . ج- الغرب . د- الجنوب.

١٨٩- توقع أي الأنهار التالية لا تثار بسببها المشكلات السياسية نهر

أ- النيل . ب- الدانوب . ج- الفرات . د- بو .

١٩٠- تقوم التخوم حسب مفهومها الجغرافي بالنسبة للدولة في اتجاه

أ- الشمال . ب- الجنوب . ج- الداخل . د- الخارج .

١٩١- الصورة التي أمامك توضح حدود سياسية مرسومة على الأرض بين دولتين

أوروبيتين ، تؤدي هذه الحدود السياسية وظيفة وحيدة هي

أ- الحماية والأمن .

ب- الوظيفة الاقتصادية.

ج- الفصل بين الدول.

د- الوظيفة السياسية.



١٩٢- كان للعامل الديموجرافي أثره الواضح في نشأة الحدود في

أ- شمال ليبيا . ب- غرب البرتغال.

ج- شرق تشيلي . د- جنوب كندا.

١٩٣- تتشابه دولتي روسيا و المملكة المتحدة في

- أ- شكل الدولة .
ب- عدد الواجهات البحرية .
ج - المناخ السائد .
د- الهيمنة على قرارات الأمم المتحدة .

١٩٤- من وجهة نظر أي من مؤسسات الاتحاد الأوروبية لا تقع ضمن أجهزته الإدارية

- أ- المجلس الأوروبي .
ب- مجلس الاتحاد الأوروبي .
ج- المفوضية الأوروبية .
د- البرلمان الأوروبي .
١٩٥- من خلال دراستك للخريطة المقابلة استنتج :

ما الدولة التي تستحوذ على معظم سواحل دولة يوغوسلافيا السابقة



- أ- سلوفينيا .
ب- البوسنة والهرسك .
ج- كرواتيا .
د- صربيا .

١٩٦- ظهر تناقض دور الأمم المتحدة سياسياً وإنسانياً في مشكلة

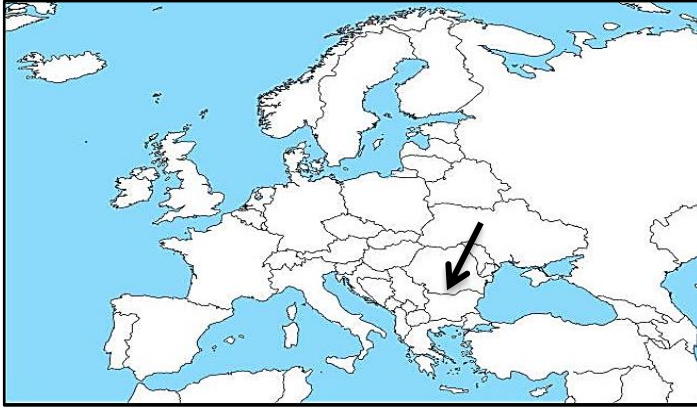
- أ- فلسطين .
ب- كشمير .
ج- سبته ومليلة .
د- البوسنة والهرسك .

١٩٩- من الدول المؤسسة لحلف الناتو

- أ- تركيا .
ب- اليونان .
ج- ألمانيا الغربية .
د- بلجيكا .

٢٠٠- السـمـهم المشار إليه في الخريطة يوضح ثاني أطول أنهار الاتحاد

الأوروبي والذي يمر بعدد من العواصم الأوروبية وهو نهر



- أ- الراين
- ب- الفولجا
- ج- السين
- د- الدانوب

٢٠١- إذا نجحت الاقلية المظلة بالخريطة المقابلة في الاستقلال والاندماج

مع إقليم كتالونيا وتكوين دولة واحدة فإن الدولة التي تماثلها في الشكل هي

.....



- أ- اليابان.
- ب- إيطاليا.
- ج- ليسوتو.
- د- سلطنة عمان.

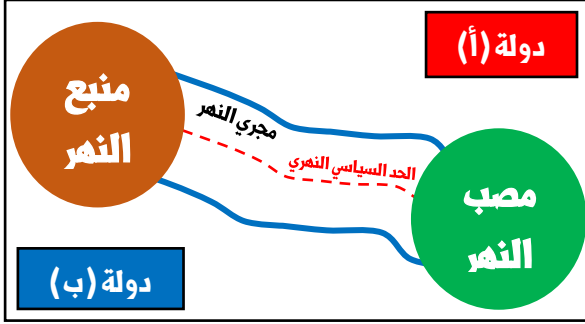
٢٠٢- نسـمـنتج من الجدول المقابل أن أكثر الدول التي يمكن أن تعتمد في

صناعاتها المعدنية على مواردها الخام الأولية

الدولة	عدد دوائر العرض	عدد خطوط الطول
(ل)	١٥	٢٩
(ك)	٤٨	٣٦
(س)	٣٤	٢٢
(ص)	١٢	٣٥

- (ل)
- (ك)
- (ج) (س)
- (د) (ص)

٢٠٣- يقع هذا النهر في نصف الكرة الشمالي فإن دولة (ب) تتميز عن دولة (أ) في



أ- الزراعة .

ب- قلة العمق .

ج- النقل النهري .

د- الموقع الاستراتيجي .

٢٠٤- إذا كانت الموارد تزيد في دولة ما بمتتالية حسابية كالتالي (٢ ، ٥ ، ٨ ، ١١) ؛ وعدد السكان يزيد بمتتالية هندسية كالتالي (٢ ، ٦ ، ١٨ ، ٥٤ ، ...) فإن هذه الدولة تعاني من

أ- نقص العمال .

ب- زيادة نسبة البطالة .

ج- كثرة الهجرة المستقبلية .

د- عدم التجانس السكاني .

٢٠٥- الدولة المتوقع أن تكون قادرة علي إدارة مواردها بسهولة هي

أ- أوجواي .

ب- البرازيل .

ج- الأرجنتين .

د- شيلي .

٢٠٦- الصورة التالية تعبر عن غياب مبدأ

أ- الديمقراطية .

ب- تقرير المصير .

ج- السيادة القومية .

د- الفصل بين السلطات .



٢٠٧- من وجهة نظرك ما الحل لدولة أوزباكستان لكي تتصل بالعالم الخارجي وتتخلص من عيوب كونها دولة حبيسة محاطة بدول حبيسة

أ- الاندماج مع دولة كازاخستان في دولة واحدة .

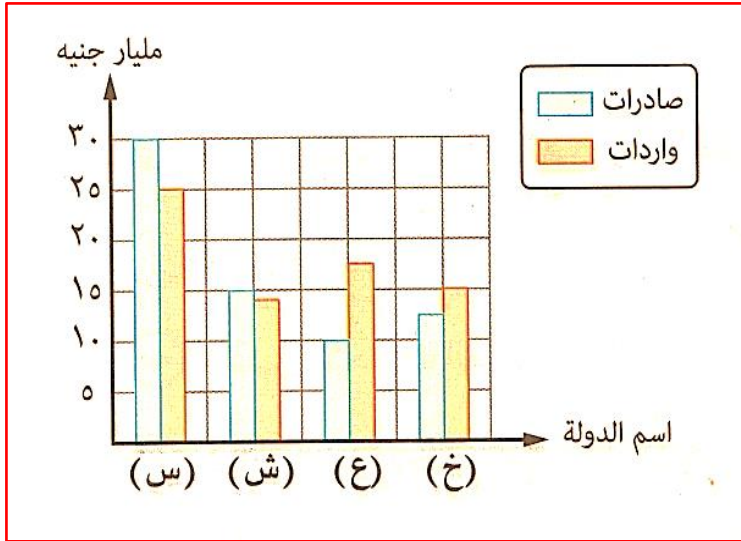
ب- تتبع نفس السياسة الداخلية والخارجية لدولة روسيا .

ج- الانقسام لدولتين متساويتين في المساحة .

د- شق قناة صناعية تصل بين بحر قزوين والبحر الأسود .

٢٠٨- يوضح الشكل البياني المقابل حجم التجارة الخارجية لبعض الدول ،
ونسنتج منه أن الدولة الأقوى في الوزن الاقتصادي

هي ذات الرمز



أ- (س) .

ب- (ش) .

ج- (ع) .

د- (خ) .

٢٠٩- الخريطة التالية توضح الاسـ تعمار الأوروبي قبل الحرب العالمية

الأولى ، استنتج : معظم دول غرب إفريقيا تم ترسيم حدودها على يد دولة

تصنف بأنها



وحدوية ، مدمجة ، شبه رئاسية .

شريطية ، وحدوية ، برلمانية .

ج- فيدرالية ، مدمجة ، رئاسية .

د- برلمانية ، كونفيدرالية ، مجزأة .

٢١٠- أول دولة عربية يمر بها مدار السرطان شرقاً تتشابه مع آخر دولة عربية

يمر بها غرباً في

اختيارهما للعاصمة على أساس السيادة القومية .

استقبالهما لهجرات غير شرعية .

ج- عدد الدول العربية المجاورة لهما .

د- تبني سياسة تخفيف أثر الصدمات الخارجية .

٢١١- (بظهور النظام العالمي انتهت بعض الحروب الأهلية في بعض الدول ، ثم أثر هذا النظام في ظهور حروب أهلية بدول أخرى) تلك العبارة تنطبق بالترتيب على

- أ- كوريا والصين .
ب- الصين وإيران .
ج- لبنان والصومال .
د- ألمانيا واليابان .

٢١٢- عندما يشغل الامتداد الفلكي لدولة ما كل الحيز المكاني الممتد بين دائرتي عرض ٥ ° شمالاً إلى ١٠ ° جنوباً ، وبين خطي طول ٦ ° شرقاً حتى ٢١ ° شرقاً فإن تلك الدولة تفتقد إلى

- أ- التنوع المناخي .
ب- الشكل المنتظم .
ج- حسن الإدارة الداخلية .
د- التنوع الجيولوجي .

٢١٣- إذا خرجت سفينة صيد ضخمة في أحد المحيطات ، ولكنها تعطلت على بعد ٣٠ كم من خط الساحل . استنتج المكان الذي تعطلت فيه هذه السفينة علماً بأن (كل ١ ميل بحري = ١.٨٥٢ كم)

- أ- المياه الداخلية .
ب- المياه المحايدة .
ج- المياه الملاصقة .
د- أعالي البحار .

٢١٤- انقسمت دولة تشيكوسلوفاكيا إلى دولتين عام ١٩٩٣م مما أدى إلى

- أ- زيادة عدد الدول المجاورة لدولة ألمانيا .
ب- زيادة عدد الدول المجاورة لدولة بولندا .
ج- تناقص عدد الدول المجاورة لدولة أوكرانيا .
د- تناقص عدد الدول المجاورة لدولة رومانيا .

٢١٥- أي الدول العربية التالية تطل على المسطحات المائية بواجهة بحرية

صغيرة إذا ما قورنت بمساحتها

أ- السعودية. ب- ليبيا. ج- المغرب. د- العراق .

٢١٦- تكون الحكومة المحلية اللامركزية أقوى ما يمكن في الدولة

أ- الـوحدوية. ب- الفيدرالية.

ج- المركزية. د- الكونفيدرالية.

٢١٧- تجمع اقتصادي يضم أكبر عدد من القوة الديموجرافية هو

أ- أبيك . ب- الكوميسا .

ج- الاتحاد الأوروبي . د- اتحاد المغرب العربي .

٢١٨- تعدد أدوار الأمم المتحدة السياسية والإنسانية لحل العديد من

المشكلات - في ضوء العبارة وضح : في أي المناطق التالية يظهر الدور السياسي

لها في

أ- شمال إفريقيا . ب - شمال أمريكا الشمالية.

ج- غرب أستراليا . د- وسط آسيا .

٢١٩- من خلال دراستك لعواصم عدة دول اجب :

(اختلف مبدأ اختيار العاصمة في دولتين هما) .

أ- إحداهما دولة بحرية مجزأة فقيرة الموارد والأخرى تطل على المحيط الأطلنطي من جهتها الغربية .

ب- إحداهما ذات شكل مسطّـط عرضي وعضو بحلف الناتو والأخرى تطل على خليج غينيا من جهتها الجنوبية.

ج- إحداهما دولة وحدوية استراتيجية الموقع والأخرى برية بحرية مجزأة في قارة أوروبا.

د- إحداهما دولة وحدوية وجزرية والأخرى لها واجهة بحرية واحدة من جهتها الجنوبية.

٢٢٠- سعت ألمانيا خلال الحرب العالمية الثانية للوصول لمناطق النفط في

أ- جنوب الخليج العربي . ب- شمال الأورال .

ج- غرب البحر المتوسط . د- شرق البحر الأسود .

٢٢١- أقل ظاهرات البناء السياسي انتشاراً في الوطن العربي في القرن الرابع عشر

الميلادي

أ- القبيلة . ب- المدينة . ج- القرية . د- العاصمة .

٢٢٢- " للدولة حياة بيولوجية مثلها مثل الكائن الحي تمر بمراحل عديدة " ،

من خلال العبارة السابقة : حدد جنسية العلماء الذين عبرت كتابتهم عن

هذه العبارة وتكون مرتبة تنازلياً

أ- ألمانية - تونسية - سويدية .

ب- تونسية - ألمانية - سويدية .

ج- سويدية - تونسية - ألمانية .

د- سويدية - ألمانية - تونسية .

٢٢٣- عند المقارنة بين غرب المحيط الأطلنطي وشرق المحيط الهادي نلاحظ

أنهما

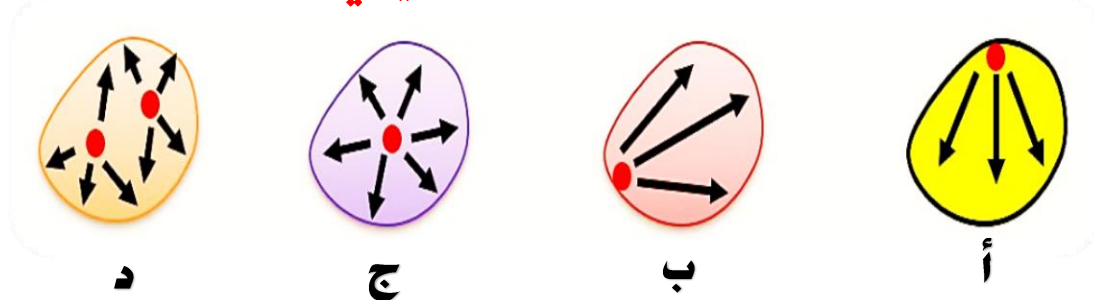
يختلفان في عدد التكتلات الاقتصادية .

يتشابهان في وجود التكتلات الاقتصادية ذاتها .

ج- يتشابهان في عدد الدول المطلة على الساحل .

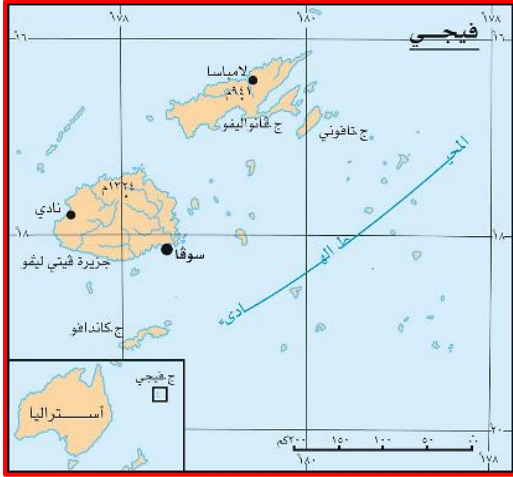
د- يتساويان في طول السواحل البحرية .

٢٢٤- أي الأشكال التالية يعبر عن اتجاه العمران البشري في الدولة الوحودية ...



الشكل (د) . ب- الشكل (أ) . ج- الشكل (ب) . د- الشكل (ج) .

٢٢٥- ادرس الخريطة جيداً ثم استنتج : تشبه دولة فيجي من حيث الشكل



جميع الدول التالية ،
ويخرج عن ذلك دولة

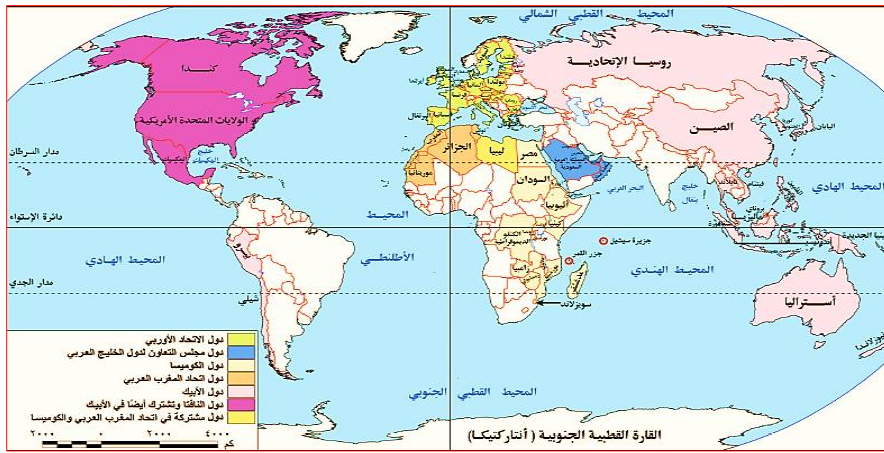
الفلبين .

إندونيسيا .

ج- ماليزيا .

د- نيوزيلندا .

٢٢٦- دولة تنتمي لتكتلين اقتصاديين يمر بها مدار السرطان



المكسيك .

الصين .

ج- الهند .

د- مالي .

٢٢٧- أي الصور التالية يعبر عن النظام السياسي في صورته المؤسسية ...



د- (٣) .

ج- (٤) .

ب- (١) .

أ- (٢) .

٢٢٨- (تتأثر القوة العسكرية للدولة بمقوماتها الطبيعية).

.....

.....

٢٢٩- ما مدى مصداقية العبارة التالية :

(استفادت تونس من شكلها الجغرافي اقتصادياً).

.....

.....

**مع أرق أمنياتي
بالنجاح الباهر والدرجات النهائية**

**محمد أبو رية
خبير مادة الجغرافيا**